

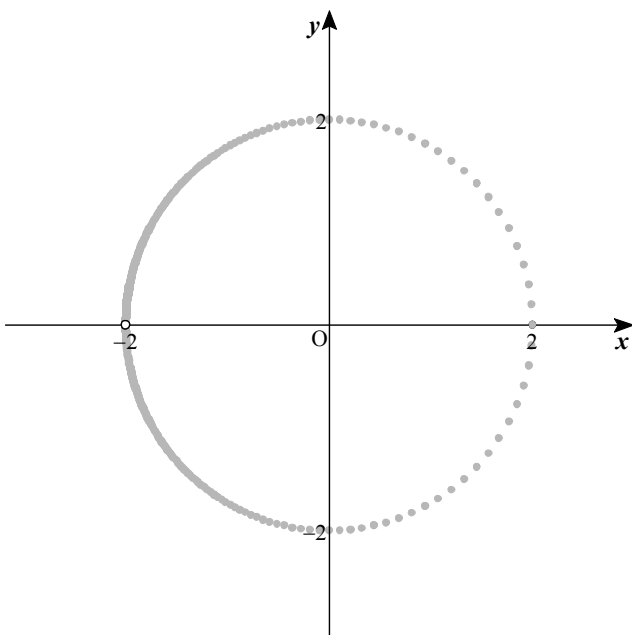
C-2 ワークシート

【分数式，無理式による媒介変数表示】

【問】以下の①～④のように媒介変数で表された曲線について、

- (1) 媒介変数  $t$  に適当な値を代入することにより曲線上の点の座標を求め、座標平面上に何点かとることにより曲線の概形を予測しなさい。
- (2) 媒介変数を消去することにより  $x, y$  についての方程式を導き、(1)での予測を確認しなさい。

$$\textcircled{1} \quad x = \frac{2(1-t^2)}{1+t^2}, \quad y = \frac{4t}{1+t^2}$$



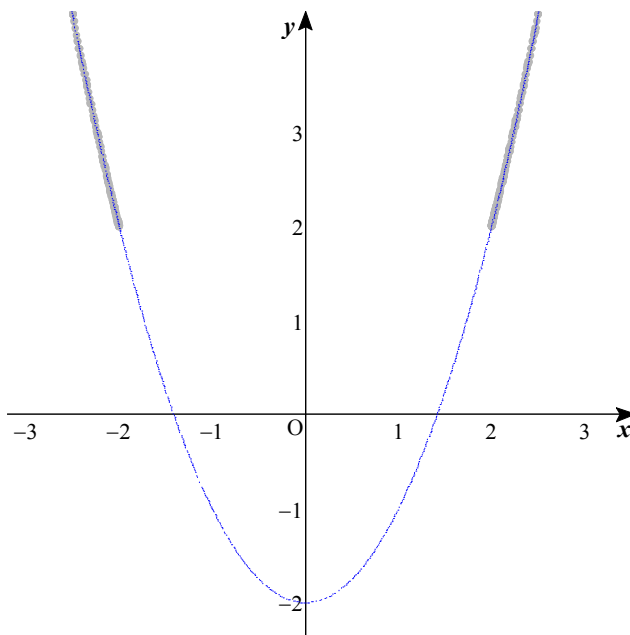
$$x^2 + y^2 = \frac{4(1-t^2)^2}{(1+t^2)^2} + \frac{16t^2}{(1+t^2)^2} = 4$$

よって 円  $x^2 + y^2 = 4$

ただし  $x = \frac{-2(1+t^2)+4}{1+t^2} = -2 + \frac{4}{1+t^2} > -2$

より、点  $(-2, 0)$  を除く

$$\textcircled{2} \quad x = t + \frac{1}{t}, \quad y = t^2 + \frac{1}{t^2}$$



$$y = \left(t + \frac{1}{t}\right)^2 - 2 = x^2 - 2$$

よって 放物線  $y = x^2 - 2$

ただし  $t > 0$  のとき  $x = t + \frac{1}{t} \geq 2\sqrt{t \cdot \frac{1}{t}} = 2$

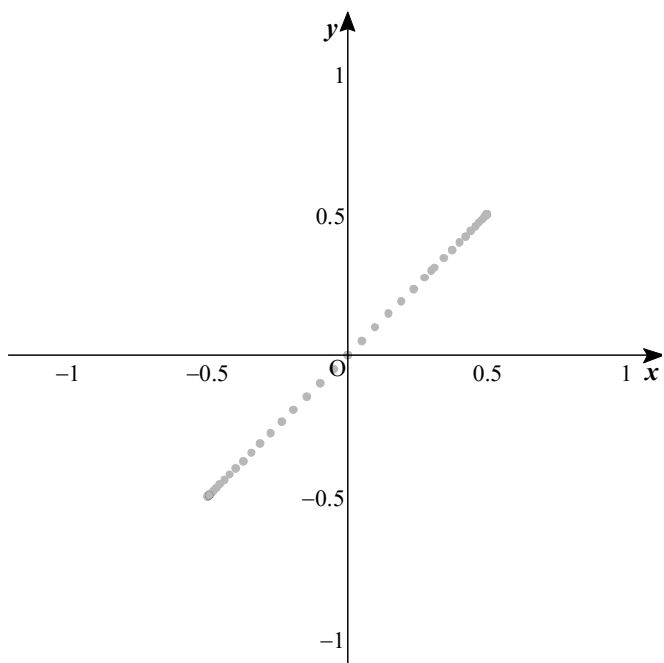
$t < 0$  のとき

$$t < 0 \quad -x = -t + \frac{1}{-t} \geq 2\sqrt{(-t) \cdot \left(\frac{1}{-t}\right)} = 2$$

より  $x \leq -2$

よって  $x \leq -2, 2 \leq x$

$$\textcircled{3} \quad x = \frac{t}{1+t^2}, y = \frac{t}{1+t^2}$$



$$y = \frac{t}{1+t^2} = x \quad \text{より} \quad \text{直線} \quad y = x$$

ただし  $t=0$  のとき  $x=0, y=0$

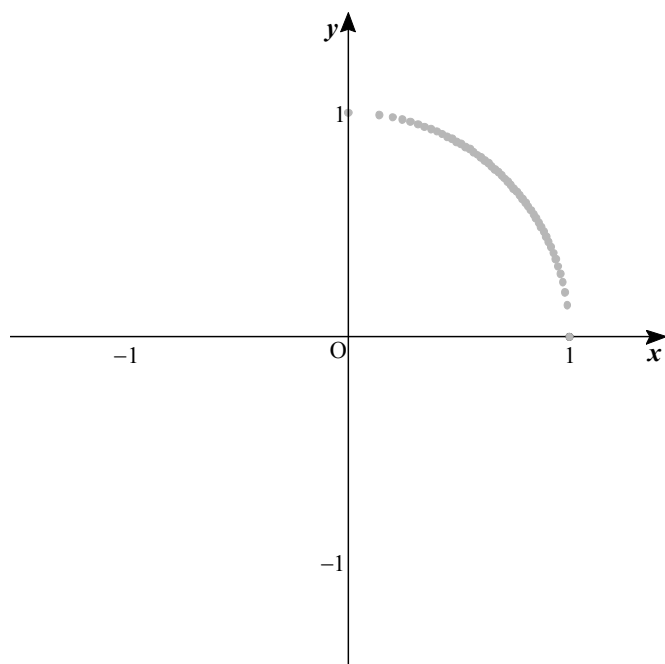
$$t \neq 0 \quad \text{のとき} \quad x = \frac{t}{1+t^2} = \frac{1}{\frac{1}{t}+t}$$

$$\text{さらに} \quad t > 0 \quad \text{のとき} \quad \frac{1}{t}+t \geq 2\sqrt{\frac{1}{t} \cdot t} = 2$$

$$t < 0 \quad \text{のとき} \quad -\frac{1}{t}+(-t) \geq 2\sqrt{\left(-\frac{1}{t}\right) \cdot (-t)} = 2$$

$$\text{より} \quad t + \frac{1}{t} \leq -2 \quad \text{であるから} \quad -\frac{1}{2} \leq x \leq \frac{1}{2}$$

$$\textcircled{4} \quad x = \sqrt{t}, y = \sqrt{1-t}$$



$$x^2 + y^2 = (\sqrt{t})^2 + (\sqrt{1-t})^2 = t + (1-t) = 1$$

$$\text{よって} \quad \text{円} \quad x^2 + y^2 = 1$$

ただし  $x = \sqrt{t} \geq 0, y = \sqrt{1-t} \geq 0$