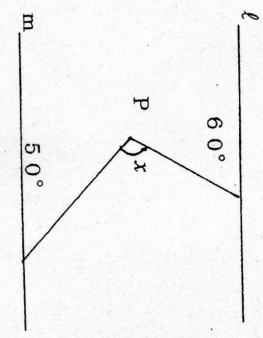
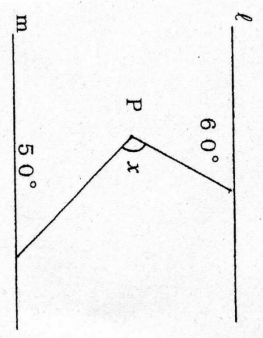
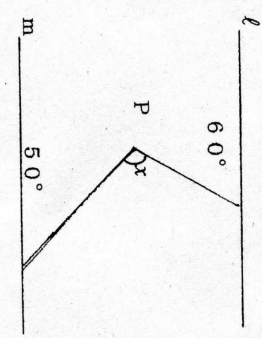
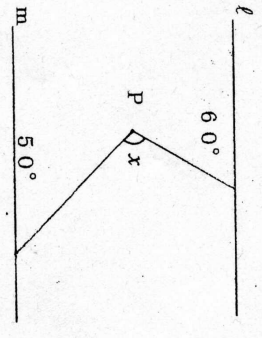
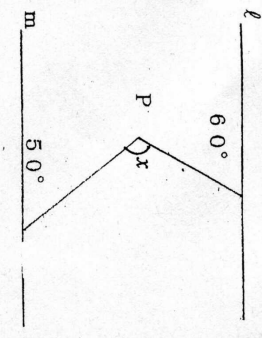
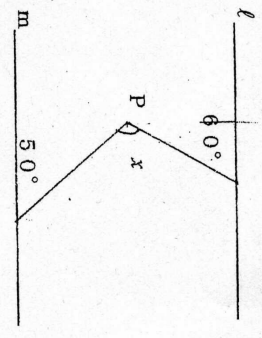


B-1 ワークシート

2年数学プリント ～平行線と角～
 * $\angle x$ の大きさをいろいろな方法で求めてみよう。



2年数学プリント ～平行線と角～
 * $\angle x$ の大きさをいろいろな方法で求めてみよう。

