

太陽や星はどのように動いて見えるか



Q 1. 図中の日本から見たア～ケの方位をそれぞれ答えなさい。

●自分の考え

- | | | | |
|----|-------|----|-------|
| 図1 | ア () | 図2 | カ () |
| | イ () | | キ () |
| | ウ () | | ク () |
| | エ () | | ケ () |

図1

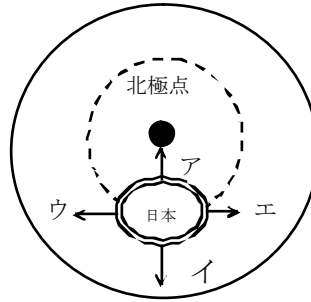
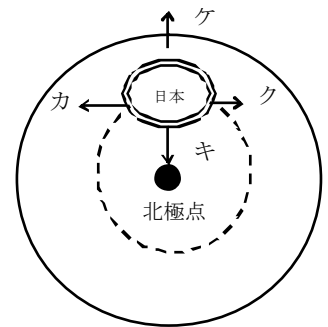


図2

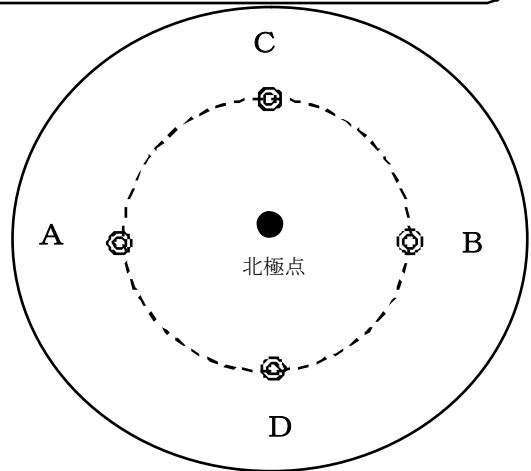
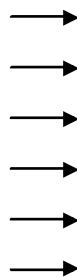


地球は「 _____ 」している。

Q 2. 太陽の光を受けている地球を北極の真上から見た図です。
日の出・日の入りが見られるのは、日本がA～Dのどの位置にあるときでしょう。



太陽の光



●自分の考え

日の出 () 日の入り ()

●話し合ってたかったこと・他班の発表を聞いて

そう考えた理由