

日本のあゆみをふりかえろう

縄文時代 →→→ 弥生時代 → 古墳時代 → ( ) 時代

→ ( ) 時代 → ( ) 時代 → ※武士の誕生  
→ 武士政権

→ ( ) 時代 → ( ) 時代 → ( ) 時代

→ ( ) 時代

Q. 「信長」「秀吉」「家康」はどこに入る？

1. せまってくる外国船—江戸時代の国際関係

## 1 鎖国と対外関係

- ①日本では江戸幕府が17世紀前半から1\_\_\_\_\_政策をとり、原則として諸藩の海外貿易と人々の海外渡航を禁じていた
- ②幕府は2\_\_\_\_\_と3\_\_\_\_\_王国とは外交関係を保ち、両国からは使節団が送られていた
- ③中国(4\_\_\_\_\_)との正式な外交関係はなかったが、民間の中国人が5\_\_\_\_\_にさまざまな物資を持ちこみ、日本からは6\_\_\_\_\_や海産物が輸出された
- ④幕府はオランダと長崎の7\_\_\_\_\_で貿易をおこない、オランダから海外の情報を入手した

## 2 琉球王国と蝦夷地

## (1) 琉球王国

- ①15世紀前半に8\_\_\_\_\_氏によって統一される  
→中国や東南アジア地域との貿易で繁栄
- ②1609年、9\_\_\_\_\_藩が琉球王国を侵略、支配する

## (2) 蝦夷地…現在の10\_\_\_\_\_をさす

- ①幕府は、11\_\_\_\_\_藩にアイヌとの交易を認める  
→11\_\_\_\_\_藩は和人の商人による不当な交易を押しつける
- ②17世紀なかば、12\_\_\_\_\_を中心にアイヌの人々が蜂起するが、鎮圧される

### 3 外国船の接近

#### (1) ロシア

①13 \_\_\_\_\_ が蝦夷地に、14 \_\_\_\_\_ が長崎に来航し、日本に通商を要求→幕府が1 \_\_\_\_\_ を理由に拒否すると、ロシア船は樺太や択捉島を攻撃

②幕府はロシアの進出を警戒し、最上徳内・近藤重蔵・15 \_\_\_\_\_ らに蝦夷地や樺太などの調査を命じる

#### (2) イギリス・アメリカ

①1808年、イギリス軍艦16 \_\_\_\_\_ 号がオランダ船を追って5 \_\_\_\_\_ に侵入、薪水・食料を奪う

②その後も、イギリス船やアメリカの捕鯨船が日本近海に出没

#### (3) 1825年：幕府、17 \_\_\_\_\_ をだす

→1 \_\_\_\_\_ 体制を守るため、日本沿岸に接近するオランダ船を除く欧米の船を砲撃し、追い払うことを命じる

### チャレンジしよう

1 右の絵をみて考えてみよう。

(1) この絵は、将軍の代替わりごとに来日する朝鮮からの使節を描いたものである。この使節の名前を何とよいか、下から選ぼう。( )

- ア. 慶賀使
- イ. 謝恩使
- ウ. 朝鮮通信使



(2) 朝鮮との外交の交渉にあたった藩はどこか、下から選ぼう。ア. 松前藩 イ. 対馬藩 ウ. 薩摩藩

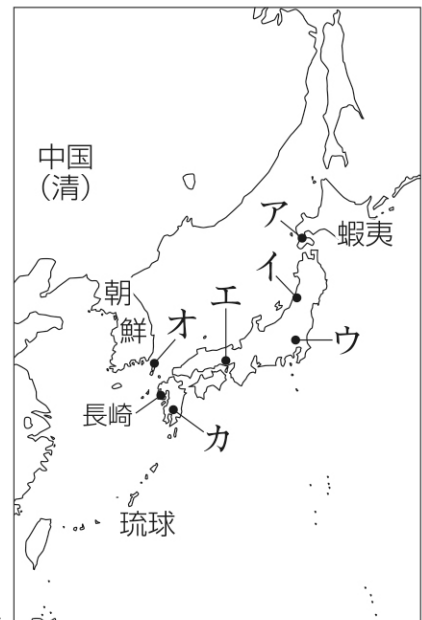
2 右の地図をみて考えてみよう。

(1) 薩摩藩、松前藩、対馬藩の位置を、上のア～カのなかから選んで答えよう。

薩摩藩：( ) 松前藩：( )

対馬藩：( )

(2) オランダ商館がおかれた、長崎にある1.3haの人工島を何とよいか答えよう。( )



### チェックポイント

①江戸時代、薩摩藩が侵略し支配した国の名前を答えよ。

②江戸時代、松前藩と交易をおこなった、現在の北海道をさす地名を答えよ。

③ロシアが日本に通商を要求するために送った使節を2人答えよ。

④1808年、オランダ船を追って長崎に侵入し、薪水・食料を奪ったイギリス軍艦の名前を答えよ。

⑤1825年にだされた、オランダ船以外の欧米の船を砲撃し追い払うことを命じた法令を何とよいか。

## 2. ちからを蓄える庶民—江戸時代後期の社会

### 1 産業の発達

#### (1) 特産品の開発

- ①綿糸・綿織物…1 \_\_\_\_\_ や朝鮮から輸入されていたが、戦国時代に西日本を中心に  
2 \_\_\_\_\_ が栽培されはじめると、国産のものでまかなわれるようになった
- ②蚕の繭からとる3 \_\_\_\_\_ ・絹織物…関東地方を中心にさかんに生産され、19世紀ごろには、1 \_\_\_\_\_ 産の輸入絹織物は激減した

#### (2) 農業・漁業の発達

- ①4 \_\_\_\_\_ 開発・水利施設などの整備・肥料の改良→米の生産力向上・消費量が増加
- ②肥料(鯀粕・5 \_\_\_\_\_)の使用増加→漁業の発展

### 2 都市商業の発達

- ①城下町や港町の商人・運輸業者によって全国の商品が運ばれる
- ②各地の商人は6 \_\_\_\_\_ ・仲買・小売に分かれ、同業者の組合(7 \_\_\_\_\_)がつくられ、安定的な商取引がなされた
- 大坂の8 \_\_\_\_\_, 江戸の9 \_\_\_\_\_などは江戸・大坂間の流通を独占
- ③江戸では10 \_\_\_\_\_, 上方(京都・大坂)では11 \_\_\_\_\_で決済された
- 12 \_\_\_\_\_(江戸・京都・大坂)では、巨大な13 \_\_\_\_\_が誕生し、財政赤字に悩む幕府や諸藩に多額の融資をする者もいた
- ④農村でも、地主や14 \_\_\_\_\_など、商人に負けない経済力をもつ者があらわれる

### 3 庶民の学習・教育熱

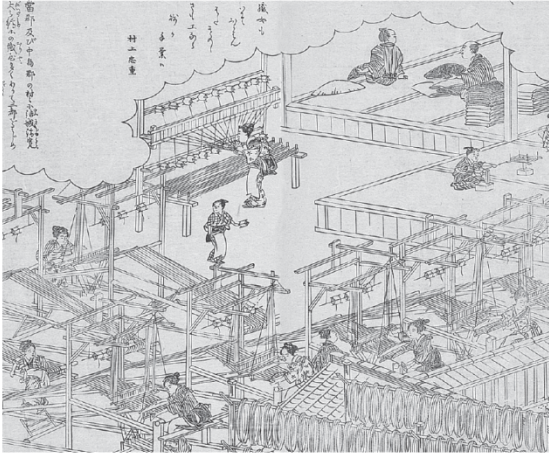
#### (1) 庶民の子弟の教育

- ①15 \_\_\_\_\_…読み・書き・そろばん・平易な道徳を教える
- ②16 \_\_\_\_\_…18世紀はじめに石田梅岩によっておこされた。勤勉などの生活倫理を説く
- ③17 \_\_\_\_\_…藩や有志の出資によって設置されたもので、  
岡山藩の18 \_\_\_\_\_などが知られる
- ④私塾…広瀬淡窓の19 \_\_\_\_\_, 吉田松陰の20 \_\_\_\_\_などが知られる

#### (2) 武士の子弟の教育

- ①幕府：18世紀末に21 \_\_\_\_\_を設立し、幕臣(22 \_\_\_\_\_・御家人)の教育に力を入れる
- ②諸藩：23 \_\_\_\_\_(藩学)の拡充・新設→人材の育成につとめる
- 米沢藩の24 \_\_\_\_\_, 会津藩の日新館などが知られる


## チャレンジしよう



1 左の絵をみて考えてみよう。

この絵は、尾張(愛知県)の綿織物の作業場のようすを描いたものである。下の説明文の空欄にあてはまる語句を答えよう。

作業場では、女性の労働者がそれぞれの持場で働き、( )制がとられている。



2 左の絵をみて考えてみよう。

(1) この絵は、天秤を使って金・銀・銭が両替されているようすを描いたものである。両替をおこなっている業者の名前を答えよう。( )

(2) この業者が特に活躍したのは「三都」である。三都がどこをさすか答えよう。  
( )・( )・( )

## チェックポイント

- ①稲や木綿などの作物の肥料として用いられた、脂をしぼった鰯を干したものを何というか。  
( )
- ②営業の独占をはかってつくられた同業者の組合を何というか。( )
- ③心学は、18世紀にだれによっておこされたか。( )
- ④岡山藩の閑谷学校などに代表される、庶民の教育のため藩や有志の出資によって設置された教育機関を何というか。( )
- ⑤米沢藩の興譲館などに代表される、武士の子弟の教育のため諸藩に設立・拡充された教育機関を何というか。( )

日本史A (長島) \_\_\_\_\_ 月 \_\_\_\_\_ 日 ( ) 氏名 \_\_\_\_\_

### 3. 近代思想のいぶき—学問・思想の発展

#### (1) 国学と尊王思想

○国学…日本の古典研究の学問として成立・発展

①1 \_\_\_\_\_ …『2 \_\_\_\_\_』などに日本古来の道をみいだす

②平田篤胤…3 \_\_\_\_\_ を唱え、天皇を尊ぶことを説き、儒教・仏教などの外来思想を批判

○ 尊王攘夷運動の高まり

19世紀、外国船がさかんに来航するなかで、外国排斥をとなえる攘夷思想が強くなる

→天皇を尊ぶ尊王思想と攘夷思想が結びつき、特に4 \_\_\_\_\_ 藩では5 \_\_\_\_\_ 論が展開された

#### (2) 洋学の発達

○18世紀、西洋の学術や知識(洋学)を習得する動きが広まる

洋学は、オランダ語によって学ばれたため6 \_\_\_\_\_ とよばれ発達

○前野良沢・杉田玄白らの研究

ドイツ人による『解剖図譜』の蘭訳本『ターヘル・アナトミア』を翻訳した『7 \_\_\_\_\_』を出版した

○民間の研究・教育

①芝蘭堂(江戸)…8 \_\_\_\_\_ が開く

②鳴滝塾(長崎)…9 \_\_\_\_\_ が開く

③適塾(大坂)…10 \_\_\_\_\_ が開く

○幕府の取り組み

①天文方の高橋至時が寛政暦を作成

②11 \_\_\_\_\_ が『大日本沿海輿地全図』を作成

③天文方に蛮書和解御用を設置…洋書の翻訳をおこなう

#### (3) 新しい思想

○社会批判

12 \_\_\_\_\_ …身分制社会を否定し、自然の世の実現を説く

○経世論(経済思想)

- ①海保青陵…商工業による藩の財政再建を説く
- ②13 \_\_\_\_\_ …外国との貿易による富国策を説く
- ③佐藤信淵…産業・流通の国家統制(産業国営化)を説く

○合理的な思考

大坂の14 \_\_\_\_\_ で学んだ町人学者の富永仲基・山片蟠桃が、儒学・仏教批判をおこなう


○農業・農村復興

大蔵永常・15 \_\_\_\_\_ ・大原幽学らが、科学的な精神や勤労をとうとぶ考え方を通じて、農村社会の改革をめざす

○幕府による思想統制

幕府は、海防論を唱えた者や幕府批判をおこなった者を処罰した

→18世紀末には16 \_\_\_\_\_ が、19世紀前半には渡辺崋山が処罰された



チャレンジしよう

1 左の写真をみて考えてみよう。

(1) これは、日本最初の翻訳人体解剖書である。その名前を答えよう。( )

(2) (1)を作成したときの苦心談が書かれた本の名前を、下から選ぼう。( )

ア. 『蘭学階梯』 イ. 『蘭学事始』 ウ. 『西洋紀聞』

チェックポイント

①『古事記』などに日本古来の道をみいだし、国学として集大成した人物はだれか。

( )

②『ターヘル・アナトミア』を訳し、『解体新書』を出版した人物はだれか。2人あげよ。

( ) ( )

③福沢諭吉ら多くの人材が育った適塾を大坂に開いた人物はだれか。

( )

④全国の沿岸を測量し、『大日本沿海輿地全図』を作成した人物はだれか。

( )

日本史A (長島) \_\_\_\_\_ 月 \_\_\_\_\_ 日 ( ) \_\_\_\_\_ 氏名 \_\_\_\_\_

#### 4. 揺らぐ幕藩体制—大塩の乱と天保の改革

##### 1 高まる不満の声

###### (1) 内憂

① 1 \_\_\_\_\_ の発生

1833年頃の天候異常による凶作で、餓死者・病死者多数

② 農村・都市で 2 \_\_\_\_\_ や 3 \_\_\_\_\_ が続発

③ 4 \_\_\_\_\_ おこる(1837年)

もと 5 \_\_\_\_\_ 町奉行所の役人であった 6 \_\_\_\_\_ が、幕府の政治を批判し、 5 \_\_\_\_\_ で武装蜂起 →半日で鎮圧されたが、幕府に大きな衝撃

###### (2) 外患

あいつぐ外国船の接近・開国要求→幕府は鎖国を理由に拒否

##### 2 天保の改革

幕府は内憂外患への対応に迫られ、1841年に政治の立て直しに着手

→老中 7 \_\_\_\_\_ による政治改革(8 \_\_\_\_\_)

###### (1) 諸政策

① 9 \_\_\_\_\_ をだし、風紀の引きしめ・ぜいたくを取りしめる

② 10 \_\_\_\_\_ を都市から農村に帰らせ、農村の再建をはかる

③ 11 \_\_\_\_\_ をだし、12 \_\_\_\_\_ ・13 \_\_\_\_\_ 周辺を直轄地にしようとする(幕府の権力を高めるため)→大名の反発で失敗

###### (2) 改革の結果

厳しい統制に対する庶民・大名の不満

→ 7 \_\_\_\_\_ 失脚。改革は2年あまりで挫折

##### 3 西南雄藩の改革

西日本の有力な藩は、本格的に政治改革をおこない、財政を再建することに成功した(これらはのちに14 \_\_\_\_\_ とよばれる)

###### (1) 薩摩藩の改革

① 巨額の借金を事実上ふみ倒す

② 奄美諸島特産の15 \_\_\_\_\_ の生産・販売を藩の管理下におく(16 \_\_\_\_\_ 制)

③ 支配下にあった17 \_\_\_\_\_ での密貿易を拡大

###### (2) 長州藩(萩藩)の改革

① 紙・蠟などの産物の統制


② 18 \_\_\_\_\_ で倉庫業・金融業を直営して利益を上げる

### (3) 肥前藩(佐賀藩)の改革

- ①19 \_\_\_\_\_ の専売で財政を再建
- ②軍事改革に力をいれる

### (4) 藩の改革の結果

- ①財政再建に成功し、藩の権力が強化された
- ②有能な下級武士の登用
- ③洋式軍事工場に力をそそぐ→幕末の政局の主導権をにぎる



チャレンジしよう

#### 1 上の写真をみて考えてみよう

(1) これは、佐賀を城下町とする藩の施設である。それはどこの藩か。その藩の名前を答えよう。( )

(2) 写真中の煙をだしている巨大な建物の名前を答えよう。( )

チェックポイント

①1837年に大坂で武装蜂起した、もと大坂町奉行所の役人はだれか。

( )

②天保の改革をおこなった老中はだれか。

( )

③天保の改革でだされた、江戸・大坂周辺を直轄地にしようとした法令を何というか。

( )

④黒砂糖の専売や琉球での密貿易によって財政を再建した藩はどこか。

( )

⑤④の藩・長州藩・肥前藩などの西日本の有力な藩は、のちに何とよばれたか。

( )