

10歳未満の感染、4月以降に急増…外出した親から「家庭内感染」

2020/05/06 09:37

読売新聞オンライン

※記事中の下線部の漢字のよみがなを () に書きなさい。

新型コロナウイルスの感染が、子どもにじわりと広がっている。10歳未満の感染者は200人を超え、その9割近くは4月以降に感染が判明した。休校期間が長引く中、仕事などで外出する親たちを介してうつる「家庭内感染」が少なくない。(安田龍郎、中川慎之介)

■東京が最多

都道府県の発表を読売新聞が集計すると、10歳未満の感染者は4日時点で242人に上る。そのうち、東京の63人が最多で、大阪22人、愛知15人と続き、都市部が上位を占めている。

国内で10歳未満の感染は2月21日に初確認された。北海道中富良野町 ()

の小学生と、中国・武漢市から政府チャーター機で帰国した埼玉県の未就学児の計2人で、3月末の時点では国内で30人以下にとどまっていた。

だが、4月に入って急増し、12日に100人、25日に200人を超えた。週別では4月12～18日に68人に達し、減少傾向 () となったもの

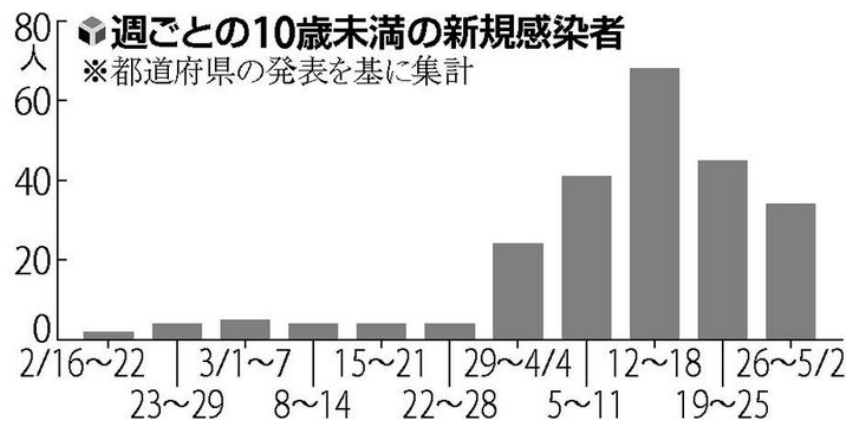
の、5月に入っても複数の感染者が判明している。

■同じ学校でも

ほとんどの学校は休校が続いて子どもは外出を控えており、保護者らから家庭内でかかるケースが多いとされる。ただ、同じ学校で複数の感染者が見つかったケースもある。

富山市立小学校では、4月15～25日に同じクラスの児童やきょうだい計5人、教諭1人の感染が次々に判明 () した。臨時休校中だったが、始業式の6日と、教科書配布や授業をした8～10日には児童が登校していた。

富山市によると、登校日には机の間隔を広げ、マスクの着用を徹底していたという。市は、児童や家族同士が校外で交流していたことなどから、「学校外で感染が広がった可能性が高い」と結論づけ、学校でのクラスター(感染集団)の発生を否定している。(裏へ続く)



設問1. 5月4日時点で、10歳未満の感染者は何人?

設問2. 都道府県別で最多はどこか?

設問3. 10歳未満の感染者が増えたのはいつごろから?

設問4. 10歳未満の子どもはどのような場で感染するケースが多いか?

設問5. 富山市の小学校の登校日にはどのような対策を立てていたか?

■今後の注意点は

緊急事態宣言は延長されたが、感染リスクを減らす分散登校などで学校を再開する動きも進むとみられる。今後の学校生活では、どんな点に注意すべきだろう。

教室に体育館、音楽室、技術家庭科室……。学校には、子どもが頻繁（ ）に出入りしたり、共有したりする設備が多い。都内の小学校で校医を務める小児科医、川上一恵・都医師会理事は「先生らがこまめに机や椅子、ドアノブなどを消毒し、児童の手洗いやうがいを見届けることが大切だ」と説く。

小学校低学年は「倦怠感（ ）」といった症状を言葉で伝えるのも難しい。先生や保護者が子どもの表情や行動に異変がないか注意を払い、察知（ ）する必要がある。

一方、「手を洗わないとコロナにかかって死ぬぞ」といったように、恐怖（ ）をおおするような言動は慎（ ）まなければならない。川上理事は「先生たちが神経質になりすぎると、子どもは学校に行くのが怖くなる。それは本末転倒（ ）だ」と警鐘（ ）を鳴らす。

肺炎の症状なら受診を…小児科学会

家で過ごす子どもの体調に異変（ ）が出た場合、親たちはどう対応すべきなのか。

「発熱や乾いたせきがあり、鼻汁は比較的少ない。一部に嘔吐（ ）や下痢（ ）も認められる」。日本小児科学会（東京）は、ホームページで子どもが新型コロナウイルスに感染した場合の症状の特徴を挙げている。

医療機関の受診の目安について、厚生労働省は「37.5度以上の発熱が4日間以上」とする。だが、子どもは風邪でもこの基準に該当しかねず、かえって医療機関で感染するリスクもある。同学会は「呼吸数が多い、呼吸が苦しいなど、肺炎を疑う症状がなければ受診は勸（ ）めない」という。

また、発症しても、軽症ならば自宅か宿泊施設などでの療養（ ）が望ましい。同学会理事で、長崎大の森内浩幸教授（小児感染症）は、「子どもの重症化リスクは高くない。親が過敏になってストレスを与えないように気をつけ、子どもの心身を守ってほしい」と話す。

ただ、国内では乳児（ ）が重症化したケースも報告されている。森内教授は「親の目から見て明らかに気になる症状があれば、まずはかかりつけ医に電話するなどしてほしい」としている。

設問6. 上の記事を読んで、あなたが家庭で注意すべきことを書きなさい。

設問7. 上の記事では、「医療機関を受診すべき」なのは、どのようなケースか？

◆教師や保護者が子どもに注意を払うべきポイント

学校で

※川上一恵さんの話に基づく

- ▶ドアノブなどみんなが触れるものは教師らがこまめに消毒する
- ▶給食中は机を黒板に向けたり、L字形に配置したりして子ども同士の対面を避ける
- ▶音楽の授業では、近隣住民の理解を得た上で、屋外や窓を開けた教室で実施する
- ▶ウイルスの恐怖をあおらない



家庭で

※日本小児科学会のホームページに基づく

- ▶家のおもちゃや本などを介して接触感染するので、手洗いと消毒を徹底する
- ▶呼吸が苦しいなど肺炎の症状がなければ、医療機関の受診は控える
- ▶発症しても症状が軽い場合は自宅や宿泊施設などでの療養が望ましい



※昨年の記事

沖縄地方が梅雨入り 平年より7日遅く

沖縄タイムスプラス 2019年5月16日 11:00



沖縄気象台は16日、沖縄地方が梅雨入りしたとみられると発表した。平年より7日遅く、昨年より16日早い。14日に梅雨入りした奄美地方に続いて全国2番目。

気象台によると、沖縄地方では向こう一週間は、前線や湿った空気の影響で曇りや雨の降る日が多い見込み。

沖縄地方の平年の梅雨入りは5月9日で、昨年は6月1日だった。梅雨明けは平年が6月23日で、昨年も6月23日だった

小雨が降る中、足早に出勤する市民
＝16日午前8時20分ごろ、那覇市久茂地

設問1. 下線部の「沖縄気象台」のほか、気象庁の「管区気象台」5つあげなさい。

設問2. 「石川県」は設問1のどの「管区気象台」の管轄地域となっているか。

設問3. 各県にある「地方気象台」のうち、「北陸地方予報中枢官署」となっているのはどこの気象台か。

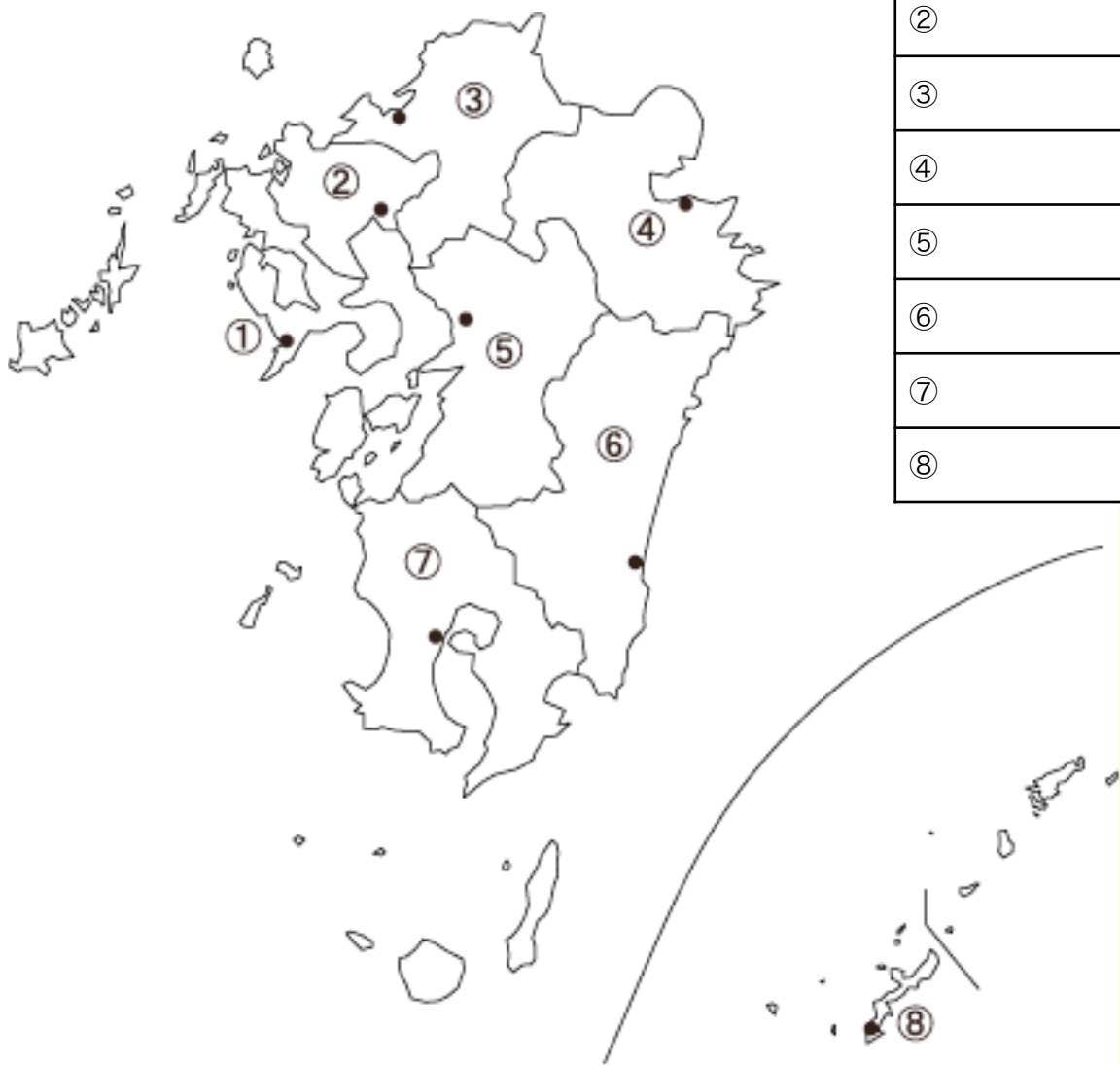
設問4. 下線部の「奄美地方」の梅雨入りを14日に発表した地方気象台はどこか。

設問5. 石川県の平年の「梅雨入り」「梅雨明け」はそれぞれいつか、調べて書きなさい。

・梅雨入り

・梅雨明け

設問6. 沖縄を含む下図の地方の各県名を答え、
県庁所在地を「・」のところに書きなさい。



①
②
③
④
⑤
⑥
⑦
⑧

設問8. 九州・沖縄地方にある書き地名によみかなを（調べずに予想して）書きなさい。その後、ネット等で調べて赤字で正しい答えを書きなさい。

- | | |
|-----------------------------|-----------------------------|
| 太宰府（ ）福岡 | 久留米（ ）福岡 |
| 八女（ ）福岡 | 直方（ ）福岡 |
| 鳥栖（ ）佐賀 | 伊万里（ ）佐賀 |
| 雲仙（ ）長崎 | 諫早（ ）長崎 |
| 彼杵（ ）長崎 | 八代（ ）熊本 |
| 由布院（ ）大分 | 日向（ ）宮崎 |
| 延岡（ ）宮崎 | 出水（ ）鹿児島 |
| 川内（ ）鹿児島 | 指宿（ ）鹿児島 |
| 鹿屋（ ）鹿児島 | 宜野湾（ ）沖縄 |
| 北谷（ ）沖縄 | 嘉手納（ ）沖縄 |
| 読谷（ ）沖縄 | 恩納（ ）沖縄 |

*昨年の記事

護憲派も改憲派も各地で集会 憲法記念日の5月3日

朝日新聞DIGITAL

2019年5月3日19時01分

憲法記念日の3日、護憲派・改憲派が各地で集会を開いた。

東京・有明では、各地で「9条の会」などをつくる市民らが憲法を守ろうと訴えた。主催者発表で約6万5千人が参加した。

音楽評論家の湯川れい子さんは戦争体験後に音楽とともに歩んできた半生に触れ「みんなで歌いおどれるところに戦争はない」と主張。「『憲法9条で平和は守れない』という人がいる。違う。9条はあらゆる理屈を超えて日本の、世界の宝だ」と語り、9条への自衛隊明記に意欲を示す安倍政権を批判した。

一方、東京・平河町では、憲法改正をめざす国民運動団体「日本会議」系の集会があった。

共催する「民間憲法臨調」「美しい日本の憲法をつくる国民の会」の2団体で代表を務めるジャーナリストの櫻井よしこ氏は「与党はいま、憲法改正ができる状況にある。ならば、なぜやらない。憲法審査会を一日も早く動かして、すばらしい令和の時代を一緒に切り開いていきたい」と述べた。

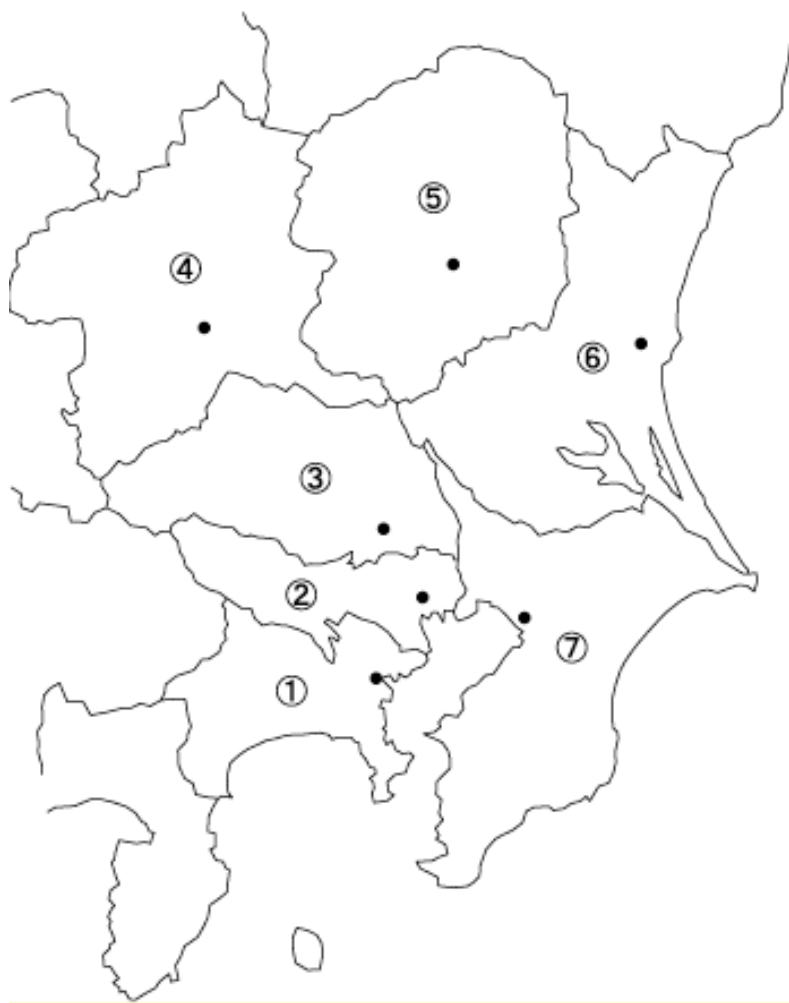
設問1. 4月から5月の、今年の「国民の祝日」の「月日」と「名称」を書きなさい。

設問2. 「国民の祝日」にうち、設問1以外のものを月ごとに調べて、「日」「名称」を書きなさい。

1月：	2月：
3月：	6月：
7月：	8月：
9月：	10月：
11月：	12月：

設問3. 記事中「憲法9条」とは、どのような内容の条文か？調べて書きなさい。

設問4. 記事の写真に「東京・有明」とあるが、東京を含む「この地方」の各都県名を解答欄に、都県庁所在地を地図中の「・」のところに書きなさい。



①
②
③
④
⑤
⑥
⑦

設問5. 上の「この地方」は一般に何とよばれるか？

設問6. ①～⑦の府県を「人口の多い順」に書きなさい

1	2	3
4	5	6
7		

設問7. 石川県の人口を調べ、①～⑦で石川県より人口が少ない県があれば書きなさい。

※一昨年の記事

GW状況 航空各社、利用客増加 新幹線は前年下回る / 北海道

毎日新聞2018年5月8日 地方版

航空各社、JR北海道、東日本高速道路は7日、ゴールデンウィーク（GW）期間（4月27日～5月6日）の利用状況を発表した。国内外観光客の増加で航空各社はいずれも好調で、利用率を前年より伸ばした。JRは北海道新幹線の乗客数が前年を下回る一方、新千歳空港、札幌両駅の乗降人員は増加した。

道内発着の国内線の航空利用客は、全日空が前年比9・3%増の27万3689人、日本航空が同5・8%増の21万4151人だった。AIRDO（エア・ドゥ）も同4・6%増の7万1737人、スカイマークも同12・1%増の5万3689人で、いずれも増加した

JRは北海道新幹線の利用者が前年比9%減の7万8400人。在来線では外国人観光客の増加もあり新千歳空港駅が前年比6%増の33万9200人、札幌駅は同2%増の155万6800人。特急が走る3線区のうち、旭川方面を除く東室蘭－苫小牧間（函館方面）と南千歳－トマム間（釧路方面）は前年より微増した。

東日本高速道路北海道支社によると、主な高速道の1日平均は1万7400台で、昨年より4%減。渋滞は3日午前9時45分ごろ、道東道の芽室－トマム間で発生した15キロが最長だった。

【野原寛史】

設問1 記事中にある「札幌」「旭川」「苫小牧」「函館」を白地図に書き入れなさい。

設問2 北海道の「新千歳空港」とそれ以外の「空港」「飛行場」を白地図に書き入れなさい。

国土院地図第14版第140号



設問3. 記事中の「航空各社」について、北海道内に発着する国内線を運行する航空会社を書きなさい。

設問4. 「小松空港」から直行便で北海道へ行く場合、

(1) どの空港に到着するか？

(2) 小松空港から(1)までの所要時間は？

(3) (1)の空港から「札幌」へ迅速に向かうにはどのような交通手段がよいか？

設問5. 下線部「北海道新幹線」について、現在どこまで開通しているか？

設問6. 金沢駅からJRを利用して設問5.の北海道新幹線を含め鉄道を利用して「札幌」まで行く場合の旅行プランを立ててみよう。(金沢駅 ○○：○○発「●●～号」、xx駅で乗り換え○○：○○発「●●～号」、、、、のように)

設問7. 下線部「高速道」について、札幌から次の都市へ向かう際に利用する高速道路名を書きなさい。

(1) 札幌から小樽

(2) 札幌から帯広

(3) 札幌から和寒

※昨年の記事

丸山議員の糾弾決議、全会一致で可決「自ら進退判断を」

朝日新聞DIGITAL

2019年6月6日13時39分

衆院は6日午後の本会議で、北方領土返還に関し「戦争」に言及した丸山穂高衆院議員（日本維新の会から除名）に対し、「院として国会議員としての資格はないと断ぜざるを得ない」などとして、実質的に丸山氏に議員辞職を促す「糾弾決議」を全会一致で可決した。丸山氏はすでに国会に提出した弁明書で議員辞職を否定している。決議に法的拘束力はない。

糾弾決議は、丸山氏の言動を「平和主義に反する発言をはじめ、議員としてあるまじき数々の暴言」と指摘。「国益を大きく損ない、本院の権威と品位を著しく失墜させた」と非難し、「院として国会議員としての資格はないと断ぜざるを得ない。ただちに、自ら進退について判断するよう促す」としている。

北方領土へのビザなし交流事業での丸山氏の言動については、野党6党派が議員辞職勧告決議案、自公両党が譴責（けんせき）決議案を衆院に提出した。自公側は当初「議員の地位の取り扱いは慎重にすべきだ」との立場だったが、「院の意思を示すべきだ」と判断し、責任追及の度合いを高めた新決議案の提出を呼びかけ、野党側が同調。辞職勧告、譴責両決議案を取り下げていた。



衆院本会議で、丸山穂高衆院議員に対する「糾弾決議」が全会一致で可決されたが、議場に丸山氏の姿はなかった

= 2019年6月6日午後1時6分、岩下毅撮影

設問1. 下線部の「糾弾決議」について、

- (1) 誰に対して出されたものか？
- (2) その人物は以前はどここの党に属していたか？
- (3) どここの「機関」が糾弾決議を可決したのか？
- (4) 「糾弾決議」が可決された理由は何か？
- (5) 「糾弾決議」が全会一致で決議されたが、それに至るまでに、どのような処分案が提案されていたか？

維新・丸山氏、国後島で「戦争しないと」 その後に撤回

朝日新聞DIGITAL

2019年5月14日00時25分

北方四島ビザなし交流の訪問団の一員として同行した日本維新の会の丸山穂高衆院議員（大阪19区）が、国後島（ ）訪問中の11日夜、北方四島の返還に関し、「戦争しないと、どうしようもありませんか」と訪問団の団長に詰め寄るなどして、訪問団から抗議を受けていたことがわかった。

同行記者団などによると、公式行事が終わった11日夜、国後島の施設「友好の家」で懇談中、丸山議員が元国後島民の大塚小彌太団長（89）に「戦争でこの島を取り返すのは賛成ですか、反対ですか」などと大声で質問。団長が「戦争はすべきではない」と答えたが、戦争しないとどうしようもないとの発言を返した。丸山議員は酒に酔っており、その後も大声で議論を続け、決まりに反して友好の家の敷地から出ようとしたという。

今回のビザなし交流は、10～13日の日程。12日に訪問団員から抗議が出て、北海道・根室港に戻った13日、丸山議員は記者会見で当時の発言について「団長に考えをたずねただけだ。交渉でわが国の立場を伝えていくのが当然と考えている」と語った。丸山議員は、衆院沖縄北方問題特別委員会の委員。

丸山議員は自らの発言が大きく報じられた後の13日深夜、都内で記者団に「心から今回の発言について謝罪し、撤回する」と表明。議員辞職するかについては「党と相談し、決めていきたい」と述べるにとどめた。

設問2. 上の記事から、丸山穂高衆院議員にどんな「問題」があったと書かれているか。

設問3. 下線部の「国後島」のよみがなを（ ）に書き入れなさい。

設問4. 下線部の「北海道・根室港」はどこか、白地図に書き入れなさい。

設問4. 下線部の「北方領土」とはどこかを調べ、島の名称を白地図中に書き入れなさい。



※3年前の記事

仏大統領選、マクロン氏が当選 ルペン氏が敗北認める

朝日新聞DIGITAL

2017年5月8日06時49分

フランス大統領選の決選投票が7日にあり、欧州連合（EU）の統合深化を進める立場をとるエマニュエル・マクロン前経済相（39）が当選を決めた。反EUを掲げた右翼・国民戦線（FN）のマリーヌ・ルペン氏（48）を退けた。

仏内務省の集計（開票率86%）によると、マクロン氏の得票は64.4%、ルペン氏は35.6%だった。

マクロン氏は7日夜（日本時間8日未明）、パリ・ルーブル美術館入り口の「ピラミッド」前で演説し、「自由、平等、友愛の理念のもとに、国民に仕える」と宣言した。また、社会に分断と怒りが広がっていることを踏まえて、「国民を結集し、和解と連帯をもたらしたい」と力を込めた。ルペン氏は投票締め切りからほどなく、支持者の前に現れ、敗北を認めた。

39歳での当選は、ドゴール氏によって大統領の権限が強められた1958年からの現体制で最年少の大統領就任となる。74年に就任したジスカールデスタン大統領の48歳（当時）より9歳若い。既存の2大政党以外からの大統領誕生も初めてだ。

マクロン氏は、エリート養成の国立行政学院（ENA）を卒業後、高級官僚や投資銀行での勤務を経験。オランダ大統領の側近として大統領府に入った後、経済相を務めた。FNの伸長や既存の2大政党への批判の高まりに対して、「右でも左でもない」との立場から独自の政治運動「前進」を立ち上げて立候補した。（以下裏面）

設問1. 今回のフランス大統領選挙の「決戦投票」の結果、（1）勝利した候補（2）敗北した候補の名前をそれぞれ書きなさい。

(1)

(2)

設問2. 当選した候補者の年齢は？

設問3. 下線部の1958年以降の、フランスの大統領の名前と任期について調べて書きなさい。

(記事続き)

親EUの立場で、ユーロ圏の議会や予算をつくと訴えたほか、社会の多様性を重視しており、反EU、反移民のルペン氏との違いを強調。「国民を守る欧州のもとで強いフランスをつくる」と支持を求めた。

経済政策では、競争を歓迎したうえで、労組、企業の双方に配慮する姿勢をとった。

金融市場では、反EUのルペン氏が当選したら大混乱が起きると予測されていた。マクロン氏の勝利で、市場は落ちついた推移になりそうだ。

ただ、経済のグローバル化に苦しめられていると感じる国民には、「新自由主義的だ」「弱者の気持ち理解できない」と受け止められ、拒否感も持たれていた。このため、決選投票を前にして、「ルペンにもマクロンにもノン」という運動もおきた。(パリ＝青田秀樹)

設問4. 「EU」に対する(1)(2)の候補者の姿勢はどのようなものか？

(1)

(2)

設問5. 下線部の「経済のグローバル化」「新自由主義」とは何か？

経済のグローバル化

新自由主義

設問6. 下の白地図中に右の国名を書き入れなさい。



- イギリス
- フランス
- ドイツ
- イタリア
- スペイン
- ベルギー
- ノルウェー
- ハンガリー
- スウェーデン
- ロシア

南北首脳が会談、正恩氏はソウル訪問にも意欲

2018年04月27日 13時54分

YOMIURI ONLINE

【高陽（韓国北西部）＝中島健太郎】韓国の文在寅(ムンジェイン)大統領と北朝鮮の金正恩(キムジョンウン)朝鮮労働党委員長による史上3回目の南北首脳会談が27日午前、軍事境界線の板門店(パンムンジョム)の韓国側施設「平和の家」で始まった。

正恩氏は北朝鮮の最高指導者として初めて、韓国の地を踏んだ。首脳会談では、6月初旬までに行われる予定の米朝首脳会談に向け、正恩氏が「非核化」にどこまで踏み込むかが最大の焦点となる。

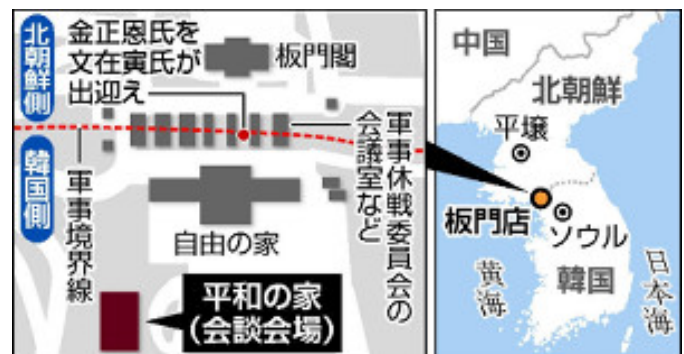
正恩氏は同日午前9時27分ごろ、板門店の北朝鮮側にある施設「板門閣」に姿を現し、文氏が待つ軍事境界線に向かう階段を実妹の金与正(キムヨジョン)党中央委員会第1副部長ら随行者を引き連れて下りた。正恩氏は軍事休戦委員会会議室の間の軍事境界線越しに文氏と握手し、同9時29分に境界線を越えた。その後、正恩氏は韓国軍儀仗(ぎじょう)隊の栄誉礼を受けた。記念撮影の後、首脳会談が行われる「平和の家」に入り、芳名録に「新しい歴史はこれから 平和の時代 歴史の出発点で」と記帳した。同9時45分ごろから、首脳会談を前に懇談した。

韓国大統領府の尹永燦(ユンヨンチャン)国民疎通首席秘書官によると、栄誉礼の会場に歩いて向かう際に文氏と正恩氏は会話をかわした。正恩氏は「大統領が招待してくれれば、いつでも青瓦台(大統領府)に行く」と語り、ソウル訪問にも意欲を示した。

設問1. 今回の南北首脳会談を行った二人の「名前」と「役職」を、文中から読み取り書きなさい。

韓国

北朝鮮



設問2. 南北首脳会談が行われた場所はどこか？

設問3. 下線部では史上3回目の南北首脳会談とあるが、過去2回は「いつ」「どこで」「誰と誰が」によって行われたか？調べて書きなさい。

設問4. 下線部の軍事境界線が南北の間にあるのは、ある戦争がきっかけだが、この戦争は「いつ」始まった「何という」戦争か？

設問5. 下の白地図に次の都市などの位置を書き入れなさい。

【ソウル、ピョンチョン(平昌)、プサン(釜山)、パンムンジョム(板門店)、ピョンヤン(平壤)】

設問6. 下の白地図に、中国、日本（対馬、九州、本州西部など）との位置関係がわかるように白地図を書き足しなさい。

