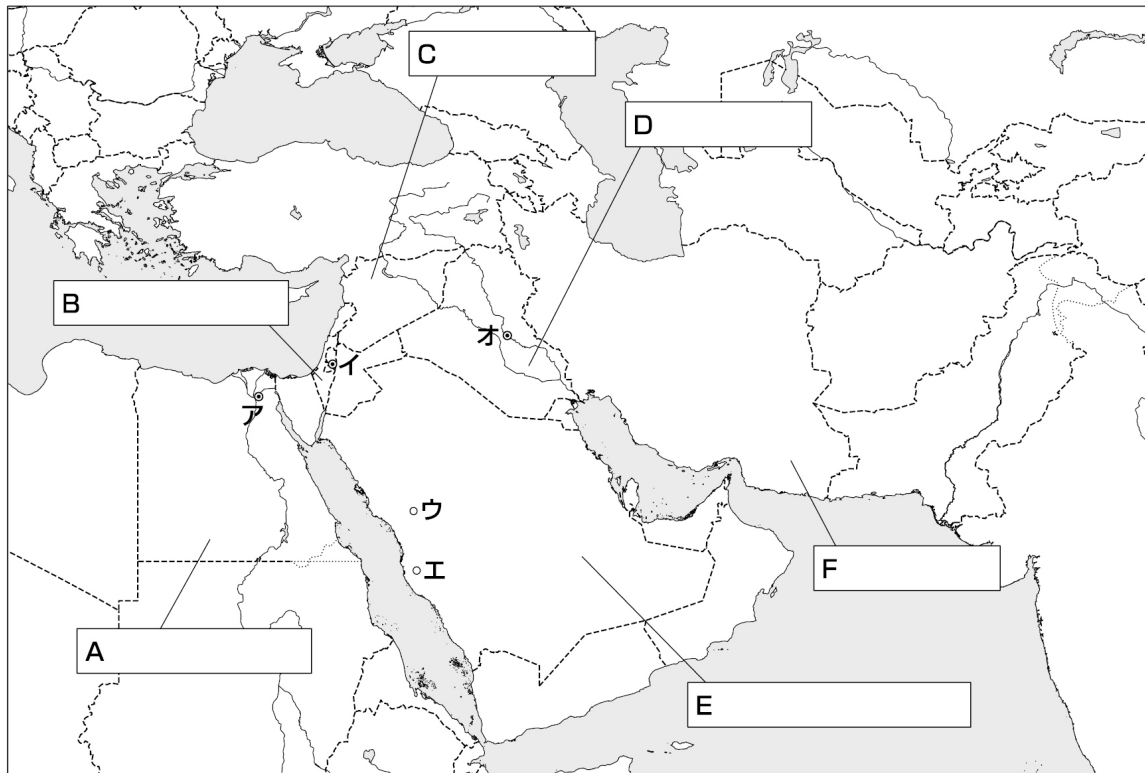


世界史A (長島) _____ 月 _____ 日 () 氏名 _____

※教科書 p46～49を参考にして、答えよ。



作業

①地図中のA～Fに国名を記入しよう。

②地図中のア～オに当てはまる都市名を下の空欄に記入しよう。

ア() イ() ウ()
エ() オ()

(1) 西アジアとは

東：イラン高原，西：地中海東岸，北：カフカス山脈，南：アラビア半島

1 _____ (「日ののぼるところ」とよばれる

→早期から農耕がおこなわれ，多くの古代文明が栄える

(2) 西アジアの風土

・ 2 _____ ・ユーフラテス両河， 3 _____ 川流域

→4 _____ 農業がおこなわれ，麦・ナツメヤシなどが栽培される

・地中海沿岸

→天水農業がおこなわれ，オリーブやブドウなどが栽培される

・山地や砂漠の乾燥地帯

→遊牧民が隊商を組み， 5 _____ をつなぐ道で農耕民と交易

7. オリент

(1) オリントの諸文明

メソポタミア

- ・ 6 _____人の都市国家(前3000ころ)
→7 _____文字・太陰暦・六十進法
- ・ バビロン第1王朝(前1894ころ～前1595ころ)…8 _____人
→ハンムラビ王のときメソポタミアを統一
- ・ 9 _____人…バビロン第1王朝を滅ぼす
→10 _____製武器や馬の引く戦車を使用

エジプト…前3000年ころ統一国家が誕生

- ・ 11 _____(神の化身とみなされた王)が人々を支配
- ・ 12 _____文字・太陽暦・測地術・靈魂の不滅(ミイラ・「死者の書」)

地中海東岸

- ・ 13 _____人…地中海交易, アルファベットの起源となる文字使用
- ・ 14 _____人…内陸の隊商交易, 14語は国際商業語
- ・ 15 _____人…ユダヤ教を形成→キリスト教・イスラームに影響

(2) オリントの統一とイラン文明

- ・ 16 _____(前2千年紀はじめ～前612)
→前7世紀にオリントを統一して大帝国建設, 圧政のため滅亡
- ・ 17 _____朝ペルシア(前550～前330)…イラン人
→前6世紀後半にオリントを再統一, 中央集権体制確立, 諸民族に寛容な政策を実施
→前4世紀後半に18 _____大王により滅亡
=19 _____文化の広まり…東西の文化が融合
- ・ 20 _____(前248ころ～後224)…イラン人遊牧民
- ・ 21 _____朝ペルシア(224～651)…イラン人
→22 _____教を国教とする
↳アケメネス朝で信奉, 善悪二神の対立を説く

※教科書 p50～53を参考にして、答えよ。

8. イスラーム世界の成立

(1) イスラームとは

- 1 _____ (イスラームを信仰する人々)
→西アジアを中心として東南アジアやアフリカなどに広がる
- 聖典『2 _____』に記された唯一神 3 _____ の言葉に絶対的に従う生活を理想＝「行いの宗教」
4 _____ …唯一神・天使・聖典・預言者・来世・予定
5 _____ …信仰告白・礼拝・喜捨・断食・巡礼

(2) イスラームの成立と発展

- 6 _____ (メッカの商人), 7世紀はじめ, 神の啓示を受けてアッラーへの服従を説く…偶像崇拜を否定し, 富の独占を批判
→メッカの大商人から迫害
- 7 _____ (622)… 8 _____ に移住(イスラーム紀元)
→ムスリムの共同体(9 _____)を形成
→メッカ征服(630)→アラビア半島を統一

(3) イスラーム世界の拡大

- 10 _____ 時代(632～661) 都：メディナ
ムハンマド死後, ムスリムは11 _____ (後継者)を選出
異教徒に対する聖戦(12 _____)によって版図を拡大
征服地住民から地租(ハラージュ)と人頭税(13 _____)を徴収
- 14 _____ 朝(661～750) 都：ダマスクス
第4代カリフ15 _____ 暗殺
16 _____, カリフを世襲として14朝を開く
→ムスリムの分離
多数派の17 _____ 派…歴代のカリフを認める
少数派の18 _____ 派…アリーとその子孫のみを支持

14朝は税制などでアラブ人を優遇

→他の民族やシーア派の不満を招き，滅亡

- ・19 _____朝(750～1258) 都：バグダード

イラン人やトルコ人を官僚やマムルーク(奴隷)軍人に採用

税制面でも民族をこえたムスリム間の平等を実現(イスラーム帝国)

- ・その後イスラーム勢力は，政治的分裂をくり返しながらも，異民族の移住者や改宗者を次々と社会に組みこんで発展

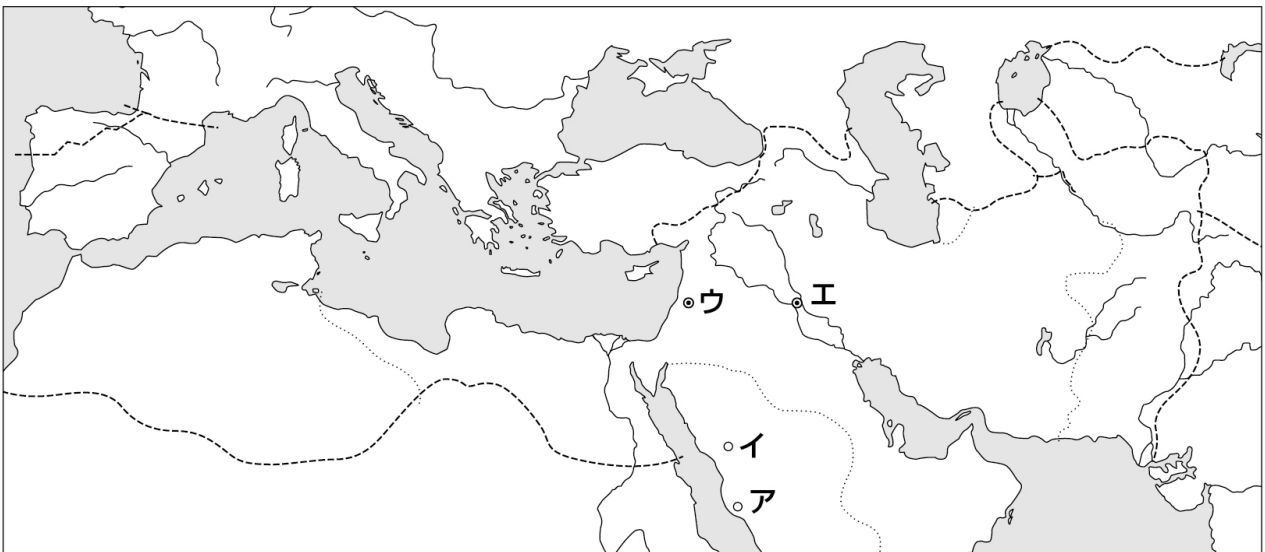
- ・20 _____(権力者)

→セルジューク朝以後，スンナ派イスラーム王朝の君主の称号

- ・11世紀以降，聖地21 _____などをめぐってキリスト教国と激しく争う…セルジューク朝・マムルーク朝など

- ・13世紀以降，インド・東南アジアやアフリカ内陸部にもイスラーム国家が誕生

チャレンジしよう



(1)説明文を参考にしながら，ア～エに当てはまる都市を記入しよう。

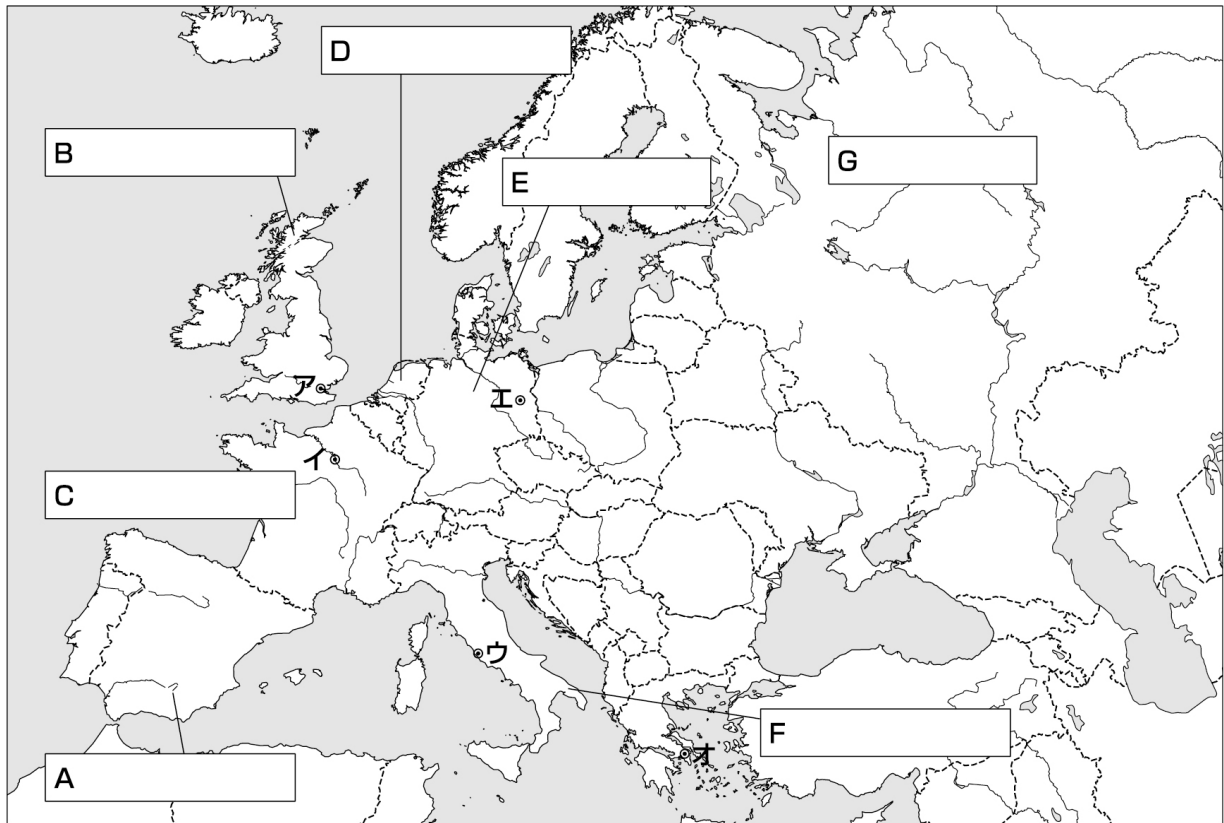
- ア()…ムハンマドの出身都市
- イ()…622年にムハンマドが移住した都市
- ウ()…ウマイヤ朝の都
- エ()…アッバース朝の都

(2)ウマイヤ朝時代の領域を着色しよう。

世界史A (長島)

月 日 () 氏名

※教科書 p54～59を参考にして、答えよ。



①地図中のA～Gに国名を記入しよう。

②地図中のア～オに当てはまる都市名を下の空欄に記入しよう。

ア() イ() ウ()

エ() オ()

(1) ヨーロッパとは

・ユーラシア大陸の1 _____ 山脈より西に広がる地域

地中海沿岸の南ヨーロッパ, ピレネー山脈と2 _____ 山脈の北に広がる

西ヨーロッパ, 3 _____ 川より東の東ヨーロッパ

(2) ヨーロッパの風土

・南ヨーロッパ…温暖だが雨量が少なく, せまい平野とやせた土地

→牧畜と4 _____ 栽培/古くからワインとオリーブ油の交易

・西ヨーロッパ…高緯度だが温暖, 雨量も多い→農耕・牧畜

→12世紀以後, 森林の開墾が進む→5 _____ の形成

・東ヨーロッパ…大陸性気候→大平原が広がり, 大規模で粗放な農業

・北ヨーロッパ…日照時間が短く, 農業に不適→林業や漁業

9. 古代ギリシアとローマ

(1) ギリシアのポリス

- ・前8世紀ころ 地中海や黒海沿岸に6 _____ (都市国家)の形成
市民は7 _____ として国防を担う→政治や裁判に参加
- ・8 _____ 戦争(前500～前449)…アケメネス朝の侵入
→スパルタとアテネを中心としたポリス連合軍が撃退
→9 _____ の活躍(軍船のこぎ手)→10 _____ の完成
- ・11 _____ 戦争(前431～前404)
→アテネとスパルタの対立→ポリス社会の衰退

(2) ヘレニズム

- ・前4世紀後半, 12 _____ が台頭, ギリシアの盟主となる
- ・13 _____ の東方遠征(前334～前324)
→東地中海から14 _____ 川におよぶ大帝国を建設
- ・15 _____ (ギリシア風)文化の広まり

(3) ローマ帝国

- ・16 _____ の開始…前6世紀末, 王を追放
→実権をにぎった17 _____ と重装歩兵の主力である18 _____ の対立
→前3世紀末, 両者は法的平等を達成/イタリア半島統一
→領土の急速な拡大→長期の従軍による19 _____ の没落
→大量の9を私兵として用いる軍人政治家の台頭
- ・20 _____ の開始 21 _____ の実権掌握→暗殺
22 _____ …地中海世界統一・20の樹立
「23 _____ (パクス=ロマーナ)」
…24 _____ がつづく2世紀末までが最盛期
- ・帝国の衰退と分裂…3世紀, ササン朝や25 _____ 人の侵入
26 _____ の導入→4世紀末, 帝国は東西に分裂
- ・27 _____ 教の成立
1世紀はじめ パレスチナで28 _____ が平等な神の愛を説く
4世紀末 ローマ帝国の国教となる

世界史A (長島)

月 日 () 氏名

※教科書 p60～65を参考にして、答えよ。

10 東西ヨーロッパ世界の形成

11 ヨーロッパの膨張と危機

(1) 東西二つのキリスト教世界

- ・ 1 _____ 人の大移動(4世紀後半)→西ローマ帝国滅亡(476)
- ・ キリスト教の広がり… 2 _____ (信徒の共同体)の組織
東：コンスタンティノープル教会 → 3 _____ 教会
西：ローマ教会 → 4 _____ 教会

(2) 東ヨーロッパ世界の形成

- ・ 5 _____ 帝国(東ローマ帝国)(395～1453)
6世紀 6 _____ 帝…地中海世界再統一
7世紀 帝国領土の縮小／ 7 _____ 語の公用語化
- ・ 東ヨーロッパ世界の形成… 8 _____ 人地域に拡大

(3) 西ヨーロッパ世界の形成

- ・ 9 _____ 王国の勢力拡大
10 _____ 大帝(位768～814)…西ヨーロッパの大部分を支配
→教皇よりローマ帝国の帝冠を受ける(800)…西ローマ帝国の復活
- ・ 大帝の死後、王国は3つの地域に分裂(現在の独・仏・伊)
東フランク… 11 _____ が帝冠(962)を受ける
→ 12 _____ の成立
- ・ 西ヨーロッパ世界の形成… 13 _____ が宗教の中心，皇帝が政治の中心

(4) 祈る人・戦う人・働く人

- ・ 14 _____ の確立(11～13世紀)
貴族(国王・諸侯・騎士)…たがいに主従関係を結ぶ
農民…荘園で働く 15 _____ 身分，賦役・貢納を負担
- ・ 気候の温暖化と農業技術の向上→農業生産力の向上，人口の増加へ

(5) 十字軍と商業の発達

- ・ 16 _____ …2世紀の間，7回の遠征がおこなわれる
→ビザンツ皇帝の要請によって教皇 17 _____ が聖地 18 _____
奪還を提唱…教皇の権威拡大
- ・ その他の拡大… 19 _____ (国土回復運動)，東方植民
- ・ 遠隔地商業の発展
イタリア都市… 20 _____ 貿易で繁栄

北ドイツ都市…21 _____ 同盟結成，バルト海・北海貿易を独占

(6) 都市の興隆…領主から自治権を獲得(自由都市)

・商人や手工業者は同業組合(22 _____)を結成して市政に参加

(7) 百年戦争と王権の伸長

・14～15世紀…23 _____ (ペスト)や飢饉・戦乱によって人口激減
→領主は農民の待遇を改善，農民の社会的地位向上

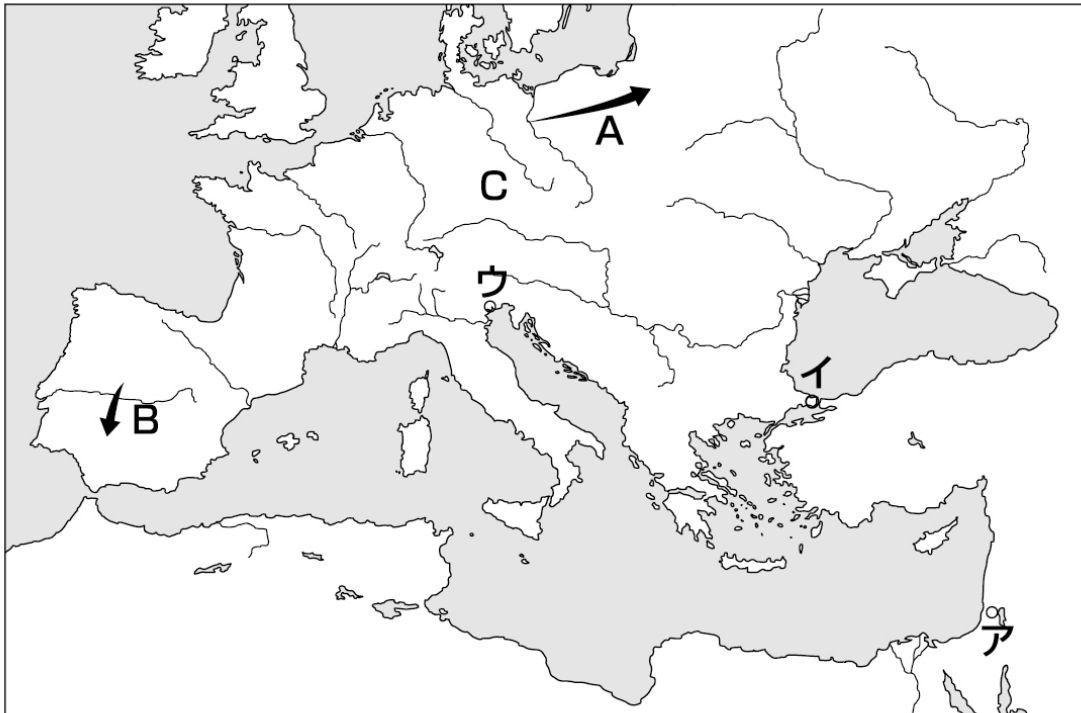
・封建社会のゆらぎ→教皇権の衰退

仏王24 _____， 25 _____ の支持を得て教皇を一
時支配下におく→

26 _____ (1378～1417)

・27 _____ 戦争(1339～1453)→諸侯の没落，国王に権力が集中

・神聖ローマ帝国…諸侯の自立がすすみ，28 _____ を形成



(1) 説明文を参考にしながら，ア～ウに当てはまる都市を記入しよう。

ア(_____)…十字軍が奪還を試みたキリスト教の聖地

イ(_____)…ビザンツ帝国の都

ウ(_____)…「アドリア海の女王」とよばれた都市

(2) A・Bの拡大運動をそれぞれ何とよぶだろうか。

A(_____) B(_____)

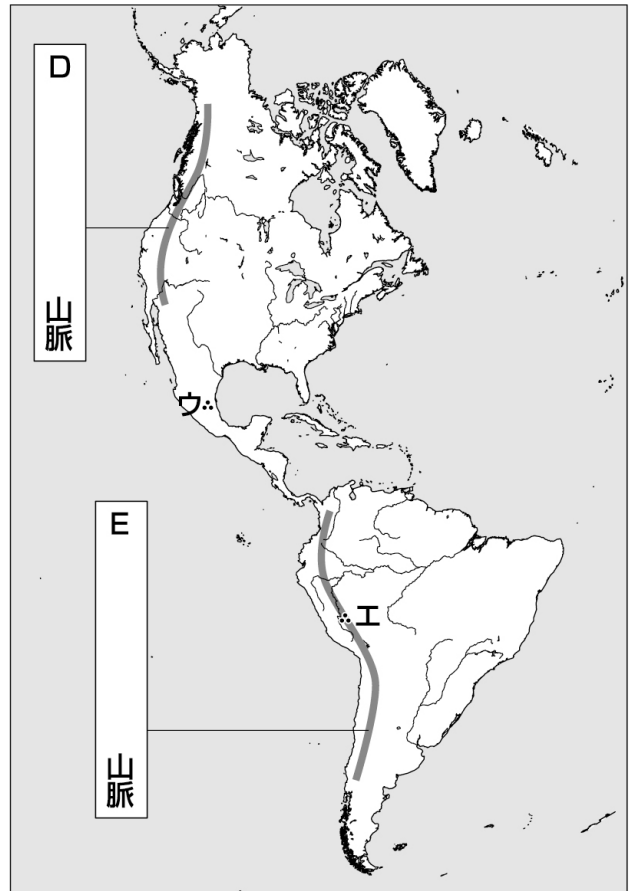
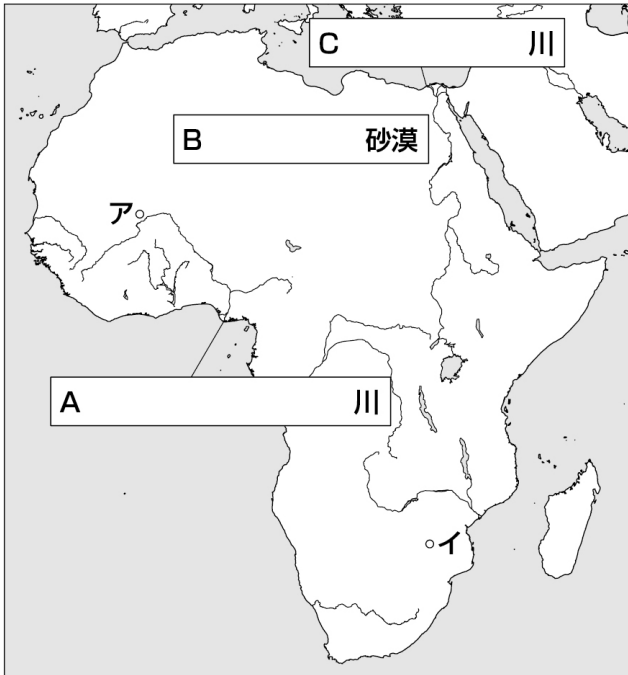
(3) オットー1世の戴冠によって成立したCの国名を答えよう。

C(_____)

世界史A (長島)

月 日 () 氏名

※教科書 p66～69を参考にして、答えよ。



- ①地図中のA～Eに適する語句を記入しよう。
- ②地図中のア～エに当てはまる都市名・遺跡名を下の空欄に記入しよう。

ア()

イ() ウ() エ()

1. アフリカ

(1) 自然と人々

- ・多様な自然…赤道直下の1 _____ 気候を中心に，南北に向けてサバナ気候・ステップ気候・砂漠気候が広がる
- ・多様な人々と言語…1500以上の民族・1800以上の言語
- ・大河の流域に古くから独自の文明をもつ多数の王国が繁栄

(2) 東部の諸王国

- ・2 _____ 王国(前920ころ～後350ころ)…ナイル川上流域
→遷都後，メロエ王国／ピラミッド建設・独自のメロエ文字を考案
- ・3 _____ 王国(紀元前後ころ～後572)→キリスト教を受容

(3) 西部の諸王国…4 _____ 川流域

- ・ 5 _____ 王国(8世紀以前～13世紀)…サハラ縦断交易で繁栄
- ・ 6 _____ 王国(1240～1473)…イスラームを受容
交易路を支配し、7 _____ 王のとき最盛期
8 _____ …経済・文化の中心、大学の建設
- ・ ソンガイ王国(1464～1591)…イスラーム国家／交易路を支配

(4) 南部の王国と東部海岸の海港都市

- ・ 9 _____ 王国(11～19世紀)…ザンベジ川流域
季節風を利用したインド洋交易／ジンバブエ遺跡
- ・ 東部海岸…モガディシュ・マリンディ・ザンジバル・キルワ
インド洋交易で繁栄／10 _____ 語の形成

2. アメリカ

(1) 二つの文明圏

- ・ 1万5千年前、アジア系狩猟民が11 _____ 海峡をわたり、アメリカ大陸へ→1万年前にアメリカ大陸南端に到達
- ・ 12 _____ を主要作物とする農耕文化(前2千年紀)
- ・ 13 _____ や車輪は用いられず、牛や馬などの大型家畜もいなかったが、金属工芸にすぐれ、高度な石造技術で神殿などを建設

(2) メソアメリカ文明圏

- ・ 14 _____ 文明(前6世紀ころ～)…ユカタン半島
ピラミッド型神殿の建設・14文字・太陽暦の使用・数学の発達
- ・ 15 _____ 王国(14世紀～)…メキシコ高原
都：16 _____
→最盛期には人口30万人、交易の中心地

(3) アンデス文明圏

- ・ 17 _____ 文明(前2～後7世紀)…ペルー南部の海岸地帯
巨大な地上絵を残す
- ・ 18 _____ 帝国(15世紀)…アンデス
皇帝＝太陽の子…太陽神殿を中心とした政治
都19 _____ を起点とする道路網・駅伝制／アンデス一帯を統治
20 _____ とよばれる縄の結び目を使って記録

世界史A (長島)

月 日 () 氏名

※教科書 p70～73を参考にして、答えよ。

14 ユーラシアの海の交流

15 ユーラシアの陸の交流

(1) ムスリム商人のインド洋進出

- ・インド洋海域の交易ネットワーク

1 _____ 商人の活動… 2 _____ 船を使用

インドの綿織物・東南アジアの香辛料・中国の絹織物

アフリカの象牙や金, 奴隷

- ・交通路の整備…商人や 3 _____ (知識人)などが自由に旅行

- ・都市の 4 _____ …世界中から商品が集まる

→隊商宿・公衆浴場・上下水道などの公共施設

- ・イスラームの拡大…商人や 5 _____ (スーフィー)の活動

(2) 中国商人の南シナ海進出

- ・唐の都 6 _____ …イラン人の流入→国際的な文化の繁栄

海の交易に注目←ムスリム商人の活動に刺激

- ・中国商人… 7 _____ 船を使用

10世紀以降, 東南アジアとの交易が発達←宋の経済発展

中国の 8 _____ ・銅銭

東南アジアの香辛料・インドの綿織物

- ・東南アジア海域の繁栄

9 _____ 王国(スマトラ島)

マレー半島やインドネシアの島々…イスラーム化の進展

→10 _____ 王国など多くの港市で, 人々の改宗がすすむ

(3) 遊牧国家の成立

- ・ 11 _____ …機動力と軍事力にすぐれる

→内陸アジアの草原地帯に広大な領域を支配する遊牧国家を形成

12 _____ ・匈奴・突厥・ウイグルなど

・オアシス都市民…13 _____人など

→遊牧国家の保護のもとで交易活動／東西文化の交流を支える

(4) モンゴル帝国とユーラシア

・モンゴル帝国の成立(13世紀)…14 _____による

→内陸アジアのオアシス都市を支配

・帝国の拡大

→朝鮮半島からロシアにおよぶ広大な地域を支配→諸ハン国の自立

→大ハンのもとにゆるやかに統合／15 _____(ジャムチ)の整備

・第5代16 _____の即位(位1260～94)

カラコルムから17 _____(現北京)に遷都, 国号を18 _____とする

19 _____を征服して中国全土を支配

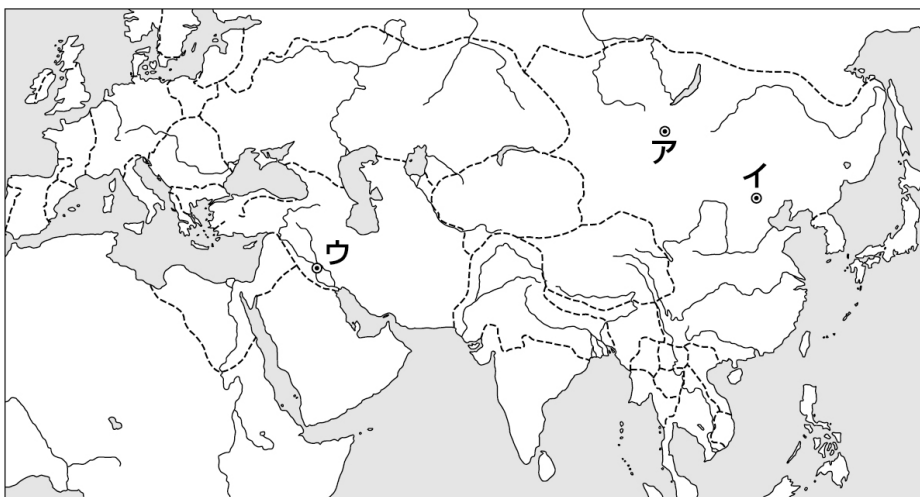
二度にわたって日本へ遠征(20 _____)

21 _____を整備, 大都には人工の港を建設→商業の中心地

・陸路と海路がユーラシア大陸をめぐる環となって結合

→壮大な規模のネットワークが形成される

説明文を参考にしながら, ア～ウに当てはまる都市を記入しよう。



ア(_____)

…モンゴル帝国の都

イ(_____)

…フビライが遷都した現在の北京

ウ(_____)

…アッバース朝の都